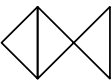



# 附件 1－數學大挑戰


溪洲國小\_\_年\_\_班 座號：\_\_ 姓名：\_\_

## 一、選擇題：(每個答案 2 分)

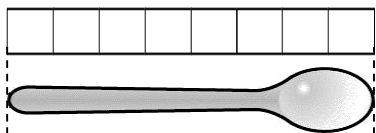
- ( ) 1. 小寶上星期存了 58 元，這星期存了 8 元，兩星期一共存了多少元？  
 ①66 元    ②67 元    ③65 元    ④68 元

- ( ) 2. 數一數，這個圖形是用幾塊排出來的？  
 ①2 塊    ②3 塊    ③4 塊    ④5 塊

- ( ) 3. 把下面的東西分成兩堆，你會怎麼分？



- ①圓形和正方形  
 ②圓形和三角形  
 ③大的圓形和小的三角形  
 ④正方形和三角形
- ( ) 4. 湯匙和幾個□一樣長？  
 ①9 個    ②8 個    ③7 個    ④6 個



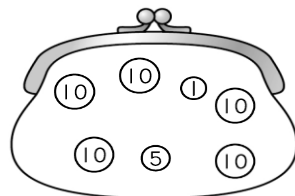
- ( ) 5. 魚缸裡有 4 條紅魚和 11 條黃魚，黃魚比紅魚多幾條？  
 ①15 條    ②8 條    ③7 條    ④5 條

- ( ) 6. 小智一共有多少元？

①①①①①①①①  
 ①①①①①①①①

- ①16 元    ②17 元    ③21 元  
 ④11 元

- ( ) 7. 錢包裡有多少元？



- ①51 元    ②66 元    ③61 元  
 ④56 元

- ( ) 8. 雨成原來有 9 枝筆，再給他 3 枝，雨成一共有幾枝筆？  
 ①6 枝    ②10 枝    ③12 枝    ④13 枝

- ( ) 9. 數數看，有多少元？

①①①①①①①①  
 ⑤⑤⑤

①①①①①①①①

- ①68 元    ②73 元    ③47 元

- ( ) 10. 把 19、58、41、90 這從小到大排排看。

①90－58－41－19

②19－58－41－90

③19－41－58－90

④41－19－58－90

- ( ) 11. 一盒果凍有 10 個，媽媽買了 3 盒又 4 個，一共是幾個果凍？

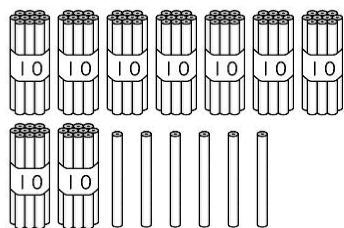
①34 個    ②30 個    ③40 個

④43 個

- ( ) 12. 排隊買電影票，文海排在第 43 個，育晴排在第 46 個，誰會先買到票？①文海 ②育晴 ③兩人同時買到票 ④不知道

- ( ) 13. 有 9 個巧克力蛋糕和 23 個草莓蛋糕，一共有幾個蛋糕？①30 個 ②31 個 ③32 個 ④33 個

- ( ) 14. 有多少枝鉛筆？



- ①92 枝 ②95 枝 ③96 枝 ④99 枝

- ( ) 15. 妹妹有 15 元，弟弟比妹妹少 5 元，弟弟有幾元？  
①20 元 ②15 元 ③12 元 ④10 元

- ( ) 16. 看月曆回答問題。8 月一共有幾個星期四？

8 月						
日	一	二	三	四	五	六
				1	2	3
4	5	6	7	8	9	10
11	12	13	14	15	16	17
18	19	20	21	22	23	24
25	26	27	28	29	30	31

- ①3 個 ②4 個 ③5 個 ④6 個

- ( ) 17. 一條 和 10 個 一樣多，3 條 和 1 個 合起來和幾個 一樣多？

- ①26 個 ②36 個 ③32 個 ④31 個

- ( ) 18. 一條 和 10 個 一樣多，5 條 和 0 個 合起來和幾個 一樣多？

- ①50 個 ②40 個 ③30 個 ④20 個

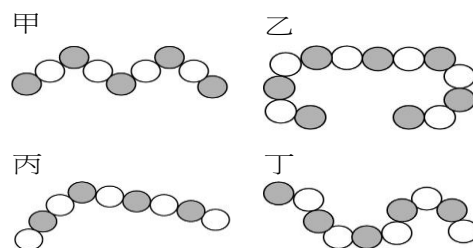
- ( ) 19. 講桌和小明的 9 枝鉛筆一樣長，講臺和小明的 3 枝鉛筆一樣長，講桌放在講臺上的高度，會和幾枝鉛筆一樣長？①13 枝

- ②12 枝 ③9 枝 ④6 枝

- ( ) 20. 算算看，哪一個減法算式的答案不是 6？

- ①15 - 9 ②14 - 8 ③13 - 6 ④12 - 6

- ( ) 21. 每個珠子都一樣大，哪一串項鍊最長？ ①甲 ②乙 ③丙 ④丁



- ( ) 22. 媽媽在超級市場買了布丁和飲料，一共花了多少元？

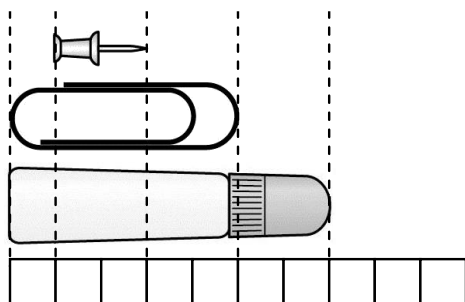
布 丁	⑩
飲 料	⑩ ⑤ ① ① ①

- ① 27 元    ② 28 元    ③ 29 元  
④ 30 元

- ( ) 23. 明天是 8 月 26 日，昨天應該是 8 月幾日？

- ① 24 日    ② 25 日    ③ 26 日  
④ 27 日

- ( ) 24. 最短的物品和最長的接在一起和幾個□一樣長？① 5 個    ② 7 個    ③ 8 個    ④ 9 個



- ( ) 25. 下面哪一個數比 89 大，比 100 小？

- ① 86    ② 74    ③ 88    ④ 93

- ( ) 26. 花園裡有 17 隻蜻蜓，蝴蝶比蜻蜓少 6 隻，蝴蝶有幾隻？① 19 隻    ② 16 隻    ③ 13 隻    ④ 11 隻

- ( ) 27. 下列哪一個數最大？

- ① 個位數 7、十位數 6  
② 個位數 6、十位數 6  
③ 十位數 7、個位數 6  
④ 十位數 7、個位數 4

- ( ) 28. 下面是百數表的一部分，★是多少？

12		14		16
	★			
			35	

- ① 13    ② 23    ③ 33    ④ 43

## 二、應用題：(每題 3 分)

1. 一盒巧克力有 9 顆，2 盒共有幾顆巧克力？

2.  
3.

答：( ) 顆

4. 便當店中午賣了 46 個雞腿便當和 35 個排骨便當，一共賣了幾個便當？

答：( ) 個

5. 老師有 66 張書籤，再買 4 張就有幾張書籤？

答：( ) 張

6. 樹上有 25 隻松鼠，樹下的松鼠比樹上的多 8 隻，樹下有幾隻松鼠？

答：(     )隻

7. 教室裡有 40 個人，走掉 21 個人後，教室裡還剩下幾個人？

答：(     )個人

8. 對摺後的紙條和 6 個花片一樣長，這條紙條打開後的長度和幾個花片一樣長？

答：(     )個

9. 醫生幫病人看診，從第 1 個看到第 38 個，還有 6 個病人沒看，總共有幾個病人要看診？

答：(     )個病人

### 三、連連看(每個 1 分)

1.

$9+6$

$7+8$

$9+4$

$5+7$

$5+6$

$7+6$

$6+6$

$2+9$

2.

$8+5$

$14$

$7+9$

$16$

$7+7$

$13$

$9+8$

$16$

$8+8$

$15$

3

$6+25$

$62-41$

$95-35$

$70+18$

$21$

$31$

$24$

$34$


$88$

$60$

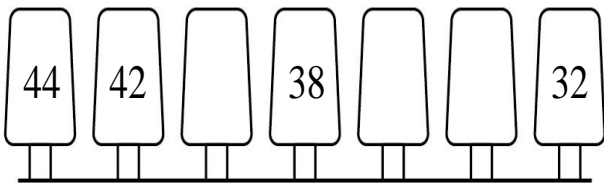
#### 四、填填看(每格 1 分)

1. 有 31 個餐盤，一年甲班有 28 個人，  
一個人分 1 個餐盤，餐盤夠不夠？  
(     )

2.



3.



4. 一年九班的學生座號是以身高由矮至高編排，姍姍的座號是 12 號，小文的座號是 20 號，凱明的座號是 27 號。
- (1)(     )的身高最矮。
- (2)(     )的身高最高。
- (3)有(     )個學生比姍姍矮。

